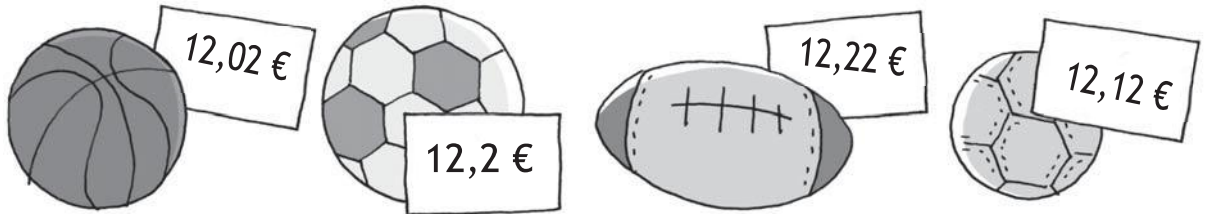
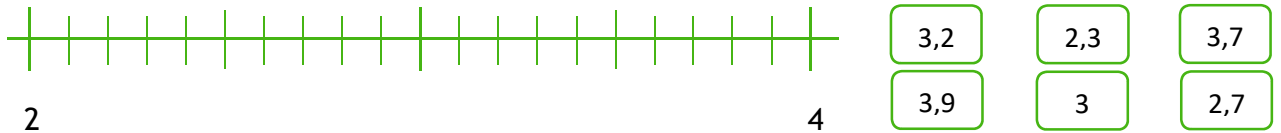


Nombre: Fecha: Curso:

1. ¿Qué balón es más barato?



2. Sitúa en la recta numérica estos números.



3. Inés ha visto en una tienda una camiseta por 9,40 € y Pedro ha visto la misma camiseta en otra tienda por 9,07 €. ¿Quién de los dos ha visto la camiseta con el precio más caro?

4. Escribe tres números decimales comprendidos entre 17,2 y 17,3.

5. Escribe los símbolos O o M donde corresponda.

5,8 5,83

12,1 12,09


45,003 45,002

77 77,1

44,003 44,01

1 200 1 200,12

6. Luisa ha comprado una cuerda y la ha dividido en tres trozos de 3,75 m, 3,07 m y 3,7 m. ¿Qué trozo tiene mayor longitud?



7. Ordena estos números de menor a mayor.

4,4

 $\frac{43}{10}$

4

4,321

 $\frac{27}{6}$ $\frac{4}{3}$